

2022年度 電気回路II 前期 第1回レポート

4年E科番号 _____ 氏名 _____

【問題 1】 図1の回路はタイプ1~タイプ4のどれに該当するかを求めよ。

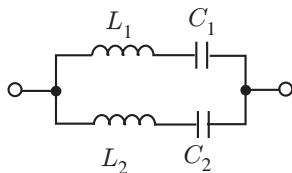


図 1: 回路

【問題 2】 図2の回路はタイプ1~タイプ4のどれに該当するかを求めよ。

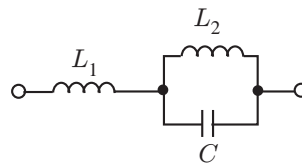


図 2: 回路

【問題 3】 図3の回路はタイプ1~タイプ4のどれに該当するかを求めよ。

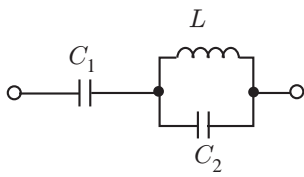


図 3: 回路

【問題 4】 図4の回路はタイプ1~タイプ4のどれに該当するかを求めよ。

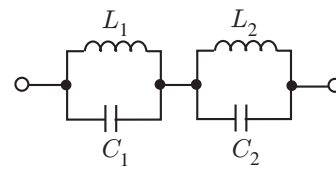


図 4: 回路